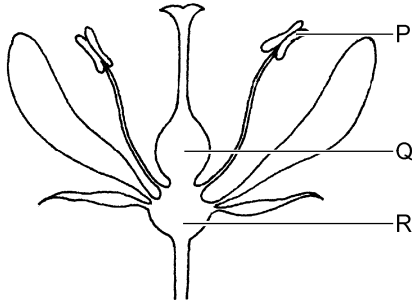


Zaden

De afbeelding geeft schematisch een bloem weer. Drie delen zijn met een letter aangegeven.



- 2p **18** Welke letter geeft het deel van de bloem aan waarin zaden kunnen ontstaan?
En wat is de naam van dat deel van de bloem?

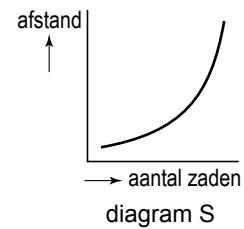
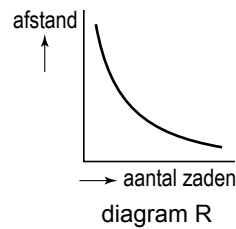
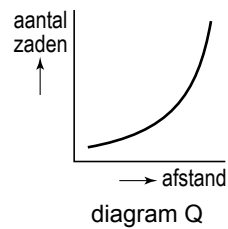
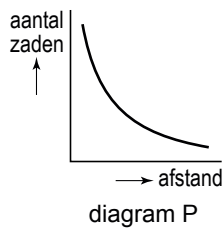
Schrijf je antwoord zó op:

letter =

naam =

- 1p **19** Van veel plantensoorten worden de zaden door de wind verspreid. Dichtbij zo'n plant worden meer zaden van die plant gevonden dan verder bij de plant vandaan.

In welk van onderstaande diagrammen wordt dit juist weergegeven?



- A** in diagram P
- B** in diagram Q
- C** in diagram R
- D** in diagram S